

Προγραμματισμός στη Visual Basic – Α Λυκείου

ΟΛΟΚΛΗΡΩΜΕΝΗ ΑΣΚΗΣΗ1 ΔΙΑΓΩΝΙΣΜΑΤΟΣ


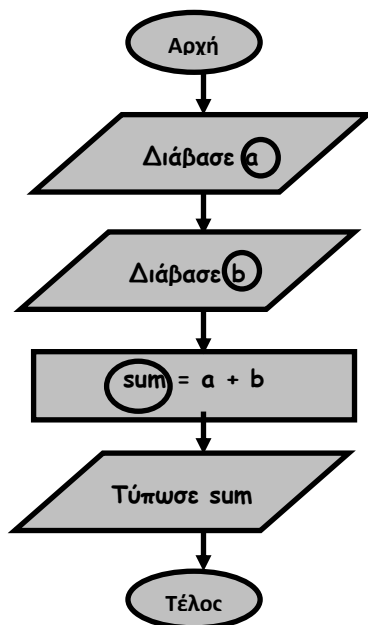
Να δημιουργήσετε ένα πρόγραμμα, το οποίο να διαβάζει 2 δεκαδικούς αριθμούς (α,β) και υπολογίζει και να τυπώνει το άθροισμά τους.

Η λύση σας πρέπει να περιλαμβάνει τα ακόλουθα:

1. Λογικό διάγραμμα του προβλήματος
2. Σχεδιασμός της φόρμας, όπου θα φαίνονται τα ονόματα των αντικειμένων που θα χρησιμοποιήσετε
3. Κώδικας που χρειάζεται για τρία κουμπιά εντολών :

ΛΥΣΗ

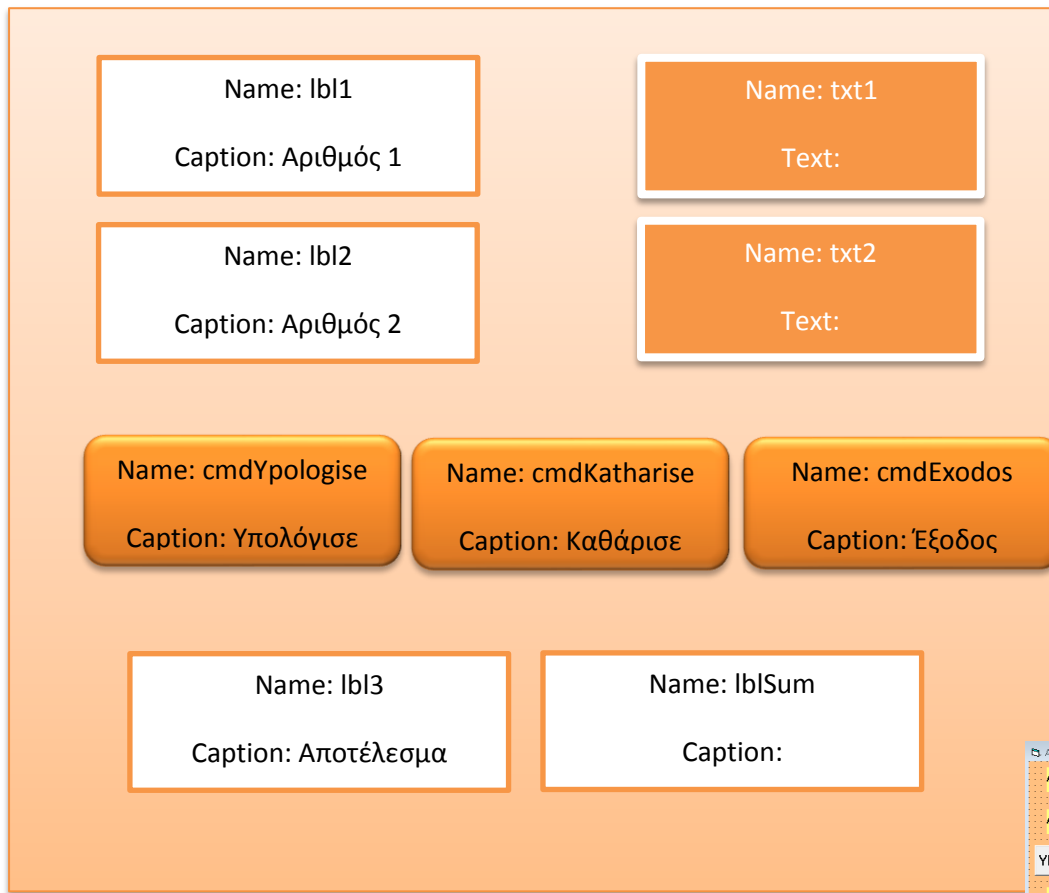
1. ΛΟΓΙΚΟ ΔΙΑΓΡΑΜΜΑ



Κυκλώνω τις μεταβλητές ώστε να θυμηθώ να τις δηλώσω στο πρόγραμμα.

Προγραμματισμός στη Visual Basic – Α Λυκείου

2. ΦΟΡΜΑ:



3. ΚΩΔΙΚΑΣ - ΠΡΟΓΡΑΜΜΑ

